

# Eksamen

12.11.2021

ADI2001 Nyanlegg

**Programområde:** Anleggsgartner- og idrettsanleggsgag

LK06

# Nynorsk

## Eksamensinformasjon

<b>Eksamenstid</b>	Eksamen varer i 4 timar.
<b>Hjelpemiddel</b>	Alle hjelpemiddel er tillatne, unntatt ope Internett, samskriving, chat og andre moglegheiter for å kunne utveksle informasjon med andre.
<b>Bruk av kjelder</b>	Dersom du bruker kjelder i svaret ditt, skal dei alltid førast opp på ein slik måte at lesaren kan finne fram til dei.  Du skal føre opp forfattar og fullstendig tittel på både lærebøker og annan litteratur. Dersom du bruker utskrift eller sitat frå Internett, skal du føre opp nøyaktig nettadresse og nedlastingsdato.
<b>Informasjon om vurderinga</b>	Eleven skal vise kompetanse i fleire deler av faget. Eleven skal vise at han/ho kan planlegge, gjennomføre og vurdere ei typisk arbeidsoppgåve for ein anleggsgartnar.
<b>TIPS TIL DEG SOM AKKURAT HAR FÅTT EKSAMENSOPPGÅVA:</b> <ul style="list-style-type: none"><li>• Start med å lese oppgåveinstruksen godt.</li><li>• Hugs å føre opp kjeldene i svaret ditt dersom du bruker kjelder.</li><li>• Les gjennom det du har skrive, før du leverer.</li><li>• Bruk tida. Det er lurt å drikke og ete undervegs.</li></ul>	

Lykke till!

## SITUASJONSBESKRIVING

På denne garden har det kome nye brukarar.

Dei har renovert bustadhuset du ser oppe til venstre. Det andre huset er garasje.

Tilkomst til tunet er vegen som kjem frå nordaust, øverst i biletet.

Heile uteområdet skal lagast på nytt. Eigarane er villige til å bruke ein god del pengar på dette, men det skal vere lettstelt. Eksisterande terrasse på sørsida av huset skal vekk.

Arealet som er gult, er dyrka mark.

Terrenget nord for huset, ved garasjen og vegen aust for hagen er ca. 1,5 meter høgare enn arealet sør for huset. Det er derfor ei samanhengande skråning frå austenden av bustadhuset, rundt vest- og sørsida av garasjen til avkøyning vestover frå driftsbygninga.

Skråninga som er omtalt ovanfor, vil eigarane ha tilplanta.

Eigarane ønskjer fast dekke på nordsida av huset (Hovudinngang) og inn til garasjen.

## OPPGÅVE

Lag ein plan for gjennomføring av arbeidet på heile arealet, ca. 1,7 dekar. (Område ringa inn med raudt)

For skråninga skal du oppgje tal på plantar av kvar art og mengde av andre innsatsfaktorar.

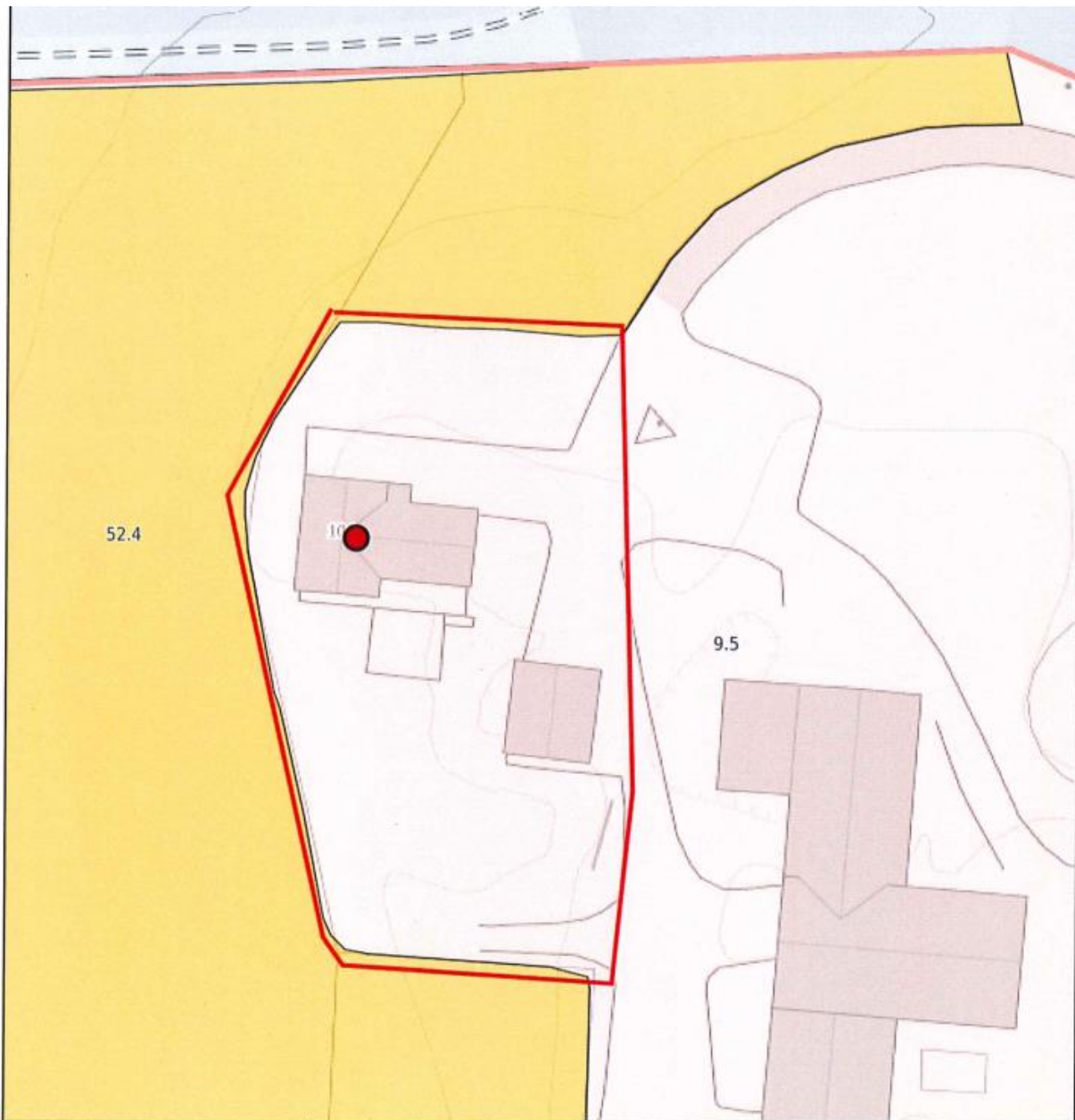
For området med fast dekke skal du rekne ut ca. areal, beskrive naudsynte tiltak og materialbruk.

Grunngje vala du har teke.

Vurder og beskriv evt. utfordringar med tanke på HMS for utføring av arbeidet.

Der det manglar informasjon, bestemmer og beskriv du sjølv føresetnadene, slik som jord/massar på staden, klima med meir.

NORD er opp på kartet.



0 5 10 15m  
 Målestokk 1: 500 ved A4 utskrift  
 Utskriftsdato: 20.10.2021 14:19  
 Eiendomsdata verifisert: 20.10.2021 13:43



Markslag (AR5) 7 klasser		AREALTALL (DEKAR)	
TEGNFORKLARING			
	Fulldyrka jord	160.2	
	Overflatedyrka jord	0.0	
	Innmærksbeite	0.0	160.2
	Produktiv skog *	353.3	353.3
	Annet markslag	140.9	
	Bebyggd, samf., vann, bre	16.5	157.4
	Ikke kartlagt	11.0	11.0
	Sum	681.9	681.9

\* Produktiv skog er skog på fastmark og myr med skogbonitet lav eller bedre.

Kartet viser valgt type gårdskart for eiendommen man har søkt på. I tillegg vises bakgrunnskart for gjenkjenning. Arealstatistikken viser arealer i dekar for alle teiger på eiendommen. Det kan forekomme avrundingsforskjeller i arealtallene.

Ajourføringsbehov meldes til kommunen.

- Arealressursgrenser
- Eiendomsgrenser
- Driftssenterpunkt

## Bokmål

### Eksamensinformasjon

<b>Eksamenstid</b>	Eksamen varer i 4 timer.
<b>Hjelpemidler</b>	Alle hjelpemiddel er tillatt, unntatt åpent Internett, samskriving, chat og andre muligheter for å kunne utveksle informasjon med andre.
<b>Bruk av kilder</b>	Hvis du bruker kilder i besvarelsen din, skal disse alltid oppgis på en slik måte at leseren kan finne fram til dem.  Du skal oppgi forfatter og fullstendig tittel på både lærebøker og annen litteratur. Hvis du bruker utskrift eller sitat fra Internett, skal du oppgi nøyaktig nettsadresse og nedlastingsdato.
<b>Vedlegg som skal leveres inn</b>	Ingen
<b>Informasjon om vurderingen</b>	Eleven skal vise kompetanse i flere deler av faget. Eleven skal vise at han/hun kan planlegge, gjennomføre og vurdere ei typisk arbeidsoppgave for en anleggsgartner.
<b>TIPS TIL DEG SOM AKKURAT HAR FÅTT EKSAMENSOPPGAVEN:</b> <ul style="list-style-type: none"><li>• Start med å lese oppgaveinstruksen godt.</li><li>• Husk å føre opp kildene i svaret ditt dersom du bruker kilder.</li><li>• Les gjennom det du har skrevet, før du leverer.</li><li>• Bruk tiden. Det er lurt å drikke og spise underveis.</li></ul>	

Lykke til!

## SITUASJONSBESKRIVELSE

På denne gården har det kommet nye brukere.

De har renoverert bolighuset du ser oppe til venstre. Det andre huset er garasje.

Adkomst til tunet er veien som kommer fra nordøst, øverst i bildet.

Hele uteområdet skal lages på nytt. Eierne er villige til å bruke en god del penger på dette, men det skal være lettstelt. Eksisterende terrasse på sørsida av huset skal vekk.

Arealet som er gult, er dyrka mark.

Terrenget nord for huset, ved garasjen og veien øst for hagen er ca. 1,5 meter høyere enn arealet sør for huset. Det er derfor ei sammenhengende skråning fra austenden av bolighuset, rundt vest- og sørsida av garasjen til avkjøring vestover fra driftsbygninga.

Skråninga beskrevet ovafor vil eierne ha tilplanta.

Eierne ønsker fast dekke på nordsida av huset (Hovedinngang) og inn til garasjen.

## OPPGAVE

Lag en plan for gjennomføring av arbeidet på hele arealet, ca. 1,7 dekar. (Område ringa inn med rødt)

For skråninga skal du oppgi antall planter av hver art og mengde av andre innsatsfaktorer.

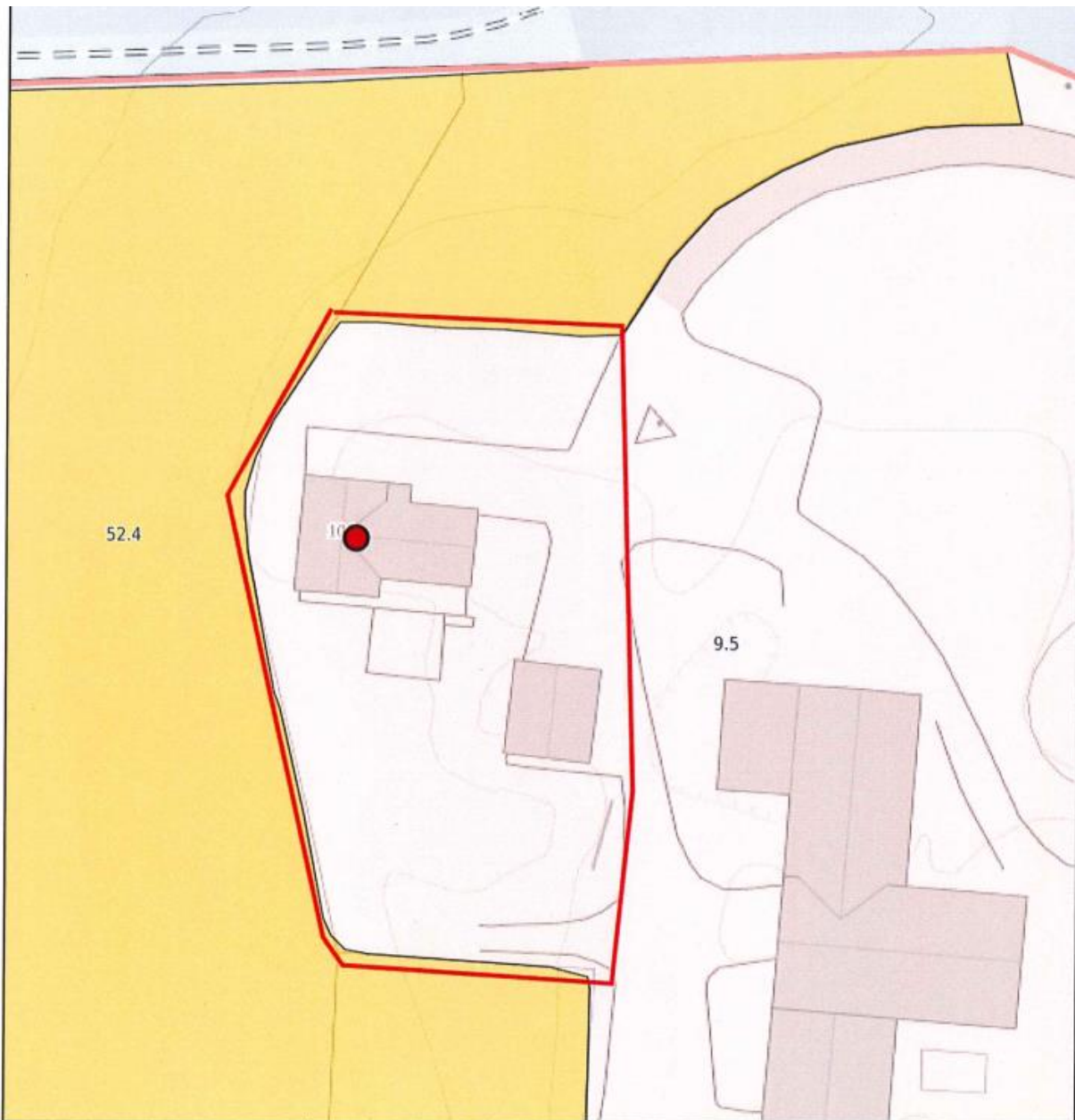
For området med fast dekke skal du regne ut ca. areal, beskrive nødvendige tiltak og materialbruk.

Begrunn valga du har tatt.

Vurder og beskriv evt. utfordringer angående HMS for utførelsen av arbeidet.

Der det mangler informasjon, bestemmer og beskriver du selv forutsetningene, slik som jord/masser på stedet, klima med mer.

NORD er opp på kartet.



0 5 10 15m  
 Målestokk 1: 500 ved A4 utskrift  
 Utskriftsdato: 20.10.2021 14:19  
 Eiendomsdata verifisert: 20.10.2021 13:43



Markslag (AR5) 7 klasser TEGNFORKLARING		AREALTALL (DEKAR)	
	Fulldyrka jord	160.2	
	Overflatedyrka jord	0.0	
	Innmærksbeite	0.0	160.2
	Produktiv skog *	353.3	353.3
	Annet markslag	140.9	
	Bebyggd, samf., vann, bre	16.5	157.4
	Ikke kartlagt	11.0	11.0
	Sum	681.9	681.9

\* Produktiv skog er skog på fastmark og myr med skogbonitet lav eller bedre.



Kartet viser valgt type gårdskart for eiendommen man har søkt på. I tillegg vises bakgrunnskart for gjenkjenneelse. Arealstatistikken viser arealer i dekar for alle teiger på eiendommen. Det kan forekomme avrundingsforskjeller i arealtallene.

Ajourføringsbehov meldes til kommunen.

- Arealressursgrenser
- Eiendomsgrenser
- Driftssenterpunkt







[www.vigoiks.no/eksamen](http://www.vigoiks.no/eksamen)